



## Guía gráficos y pictogramas. Refuerzo tercero básico

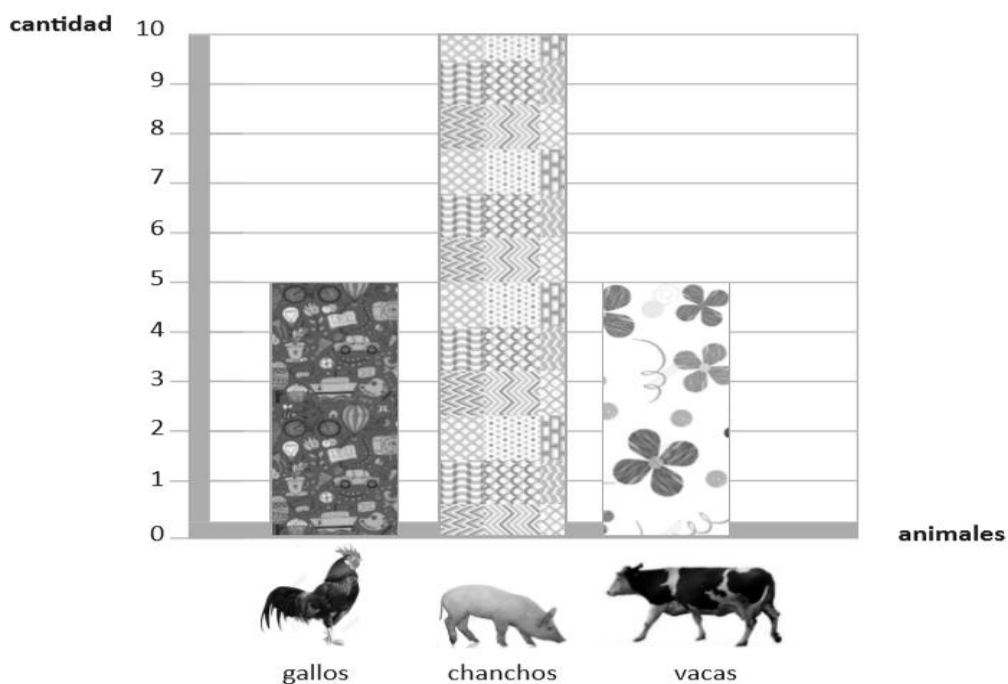
Nombre	Curso	Fecha
		___/___/ 2021

### OA 20

Recolectar y registrar datos para responder preguntas estadísticas sobre juegos con monedas y dados, usando bloques, tablas de conteo y pictogramas.

Observa los gráficos y luego responde las preguntas.

I.- Pedro fue al campo y vio chanchos, gallos y vacas. Luego, hizo un gráfico con los animales vistos.



Responde:

1. ¿Cuántos chanchos vio Pedro? \_\_\_\_\_

2. ¿Cuántos gallos vio Pedro? \_\_\_\_\_





3. ¿Cuántas vacas vio Pedro? \_\_\_\_\_

4. ¿Cuántos chanchos más que vacas vio Pedro? \_\_\_\_\_



5. ¿Cuántos animales en total vio Pedro? \_\_\_\_\_

II.- Recorta las figuras de abajo y pégalas en el gráfico, según corresponda. Luego, responde las preguntas.


1) ¿De cuál compraste más que 4?




2) ¿De cuál compraste menos cantidad?



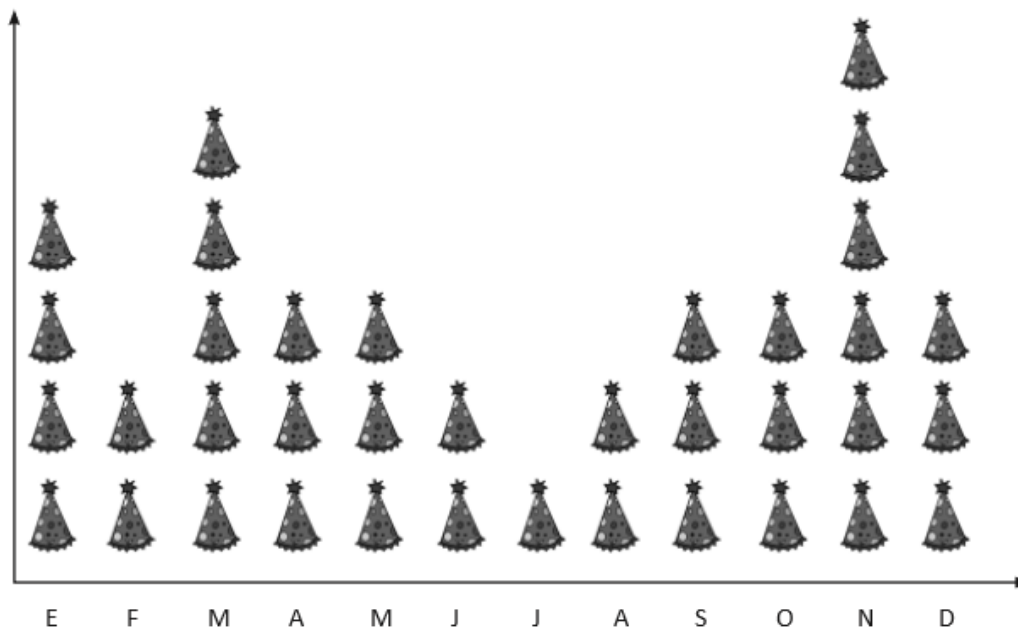
3) ¿Cuántos  y

 compraste en total?





III.- Este pictograma muestra la cantidad de cumpleaños que hay en cada mes en un curso de 1° básico. Cada gorro equivale a 2 niños o niñas.



**Observa el pictograma y contesta las preguntas:**

1. ¿Cuántos niños están de cumpleaños en junio? \_\_\_\_\_
2. ¿En qué mes hay más cumpleaños? \_\_\_\_\_
3. ¿En qué mes hay 8 niños de cumpleaños? \_\_\_\_\_
4. ¿En qué mes hay menos cumpleaños? \_\_\_\_\_
5. ¿En qué mes es tu cumpleaños? \_\_\_\_\_