

CLASE MATEMATICAS ONLINE

Fecha: 07/10/20

AO:22

. Objetivo: Miden el perímetro de objetos y lo expresan en cm
 o m

1.- Copia en tu cuaderno el concepto y resuelve los ejercicios

El área de una figura es la medida de su superficie.

Para calcular el área de una figura se utiliza una determinada unidad de medida y se cuenta cuántas veces está contenida en la superficie de la figura que se medirá.

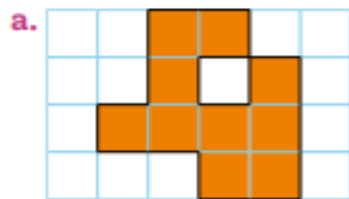
Ejemplo:



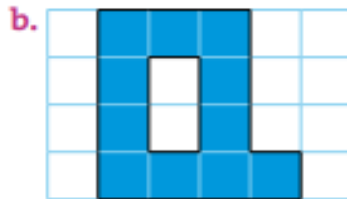
El área de la figura es 12

Practica

1. Calcula el área de las siguientes figuras considerando como unidad de medida el . Aplicar



Área

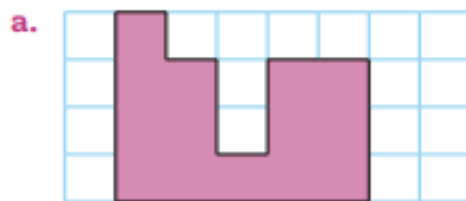


Área

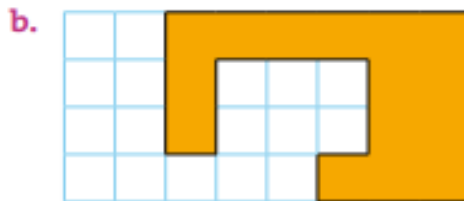


Área

2. Calcula el área de las siguientes figuras considerando como unidad de medida el . Aplicar



Área



Área

2.- REWSUELVE LOS EJERCICIOS DE TU CUADERNO DE EJERCICIOS MATEMATICA PAGINAS 144 A LA 147