



CLASE MATEMATICAS ONLINE

Fecha: 05/10/20

AO:22

. *Objetivo: Suman y restan longitudes en cm y m.*

1 resuelve los ejercicios en la guía y luego pégala en tu cuaderno





El metro y el centímetro

1. Une las medidas equivalentes.

a. 1 metro y 12 centímetros	Ⓒ	Ⓐ 228 centímetros
b. 5 metros y 17 centímetros	Ⓒ	Ⓑ 101 centímetros
c. 1 metro y 1 centímetro	Ⓒ	Ⓒ 112 centímetros
d. 2 metros y 28 centímetros	Ⓒ	Ⓓ 517 centímetros

2. Lee la situación y luego responde.

En un 4° básico se hizo una competencia de salto y 4 amigos están comparando sus distancias.




 Daniel	 Nicolás	 Martina	 Javiera
---	--	---	--

Yo salté 154 centímetros. Yo salté 1 metro y 5 centímetros. Yo salté 1 metro y 40 centímetros. Yo salté 128 centímetros.

a. ¿Cuántos centímetros saltó cada uno?

Daniel saltó <input type="text"/> cm.	Martina saltó <input type="text"/> cm.
Nicolás saltó <input type="text"/> cm.	Javiera saltó <input type="text"/> cm.

b. ¿Quién obtuvo el primer, segundo y tercer lugar? Completa con sus nombres.

<input type="text"/>	<input type="text"/>	<input type="text"/>
		

2.- Resuelve con tu libro delgado de matemática los ejercicios de la páginas 132 a 14