

GUIA MATEMATICA ONLINE

Fecha: 24-08-20

OA 7

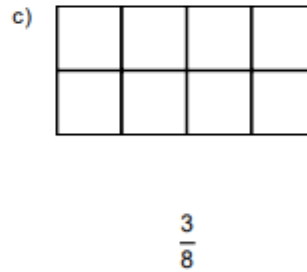
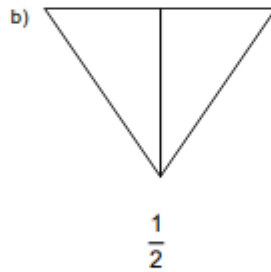
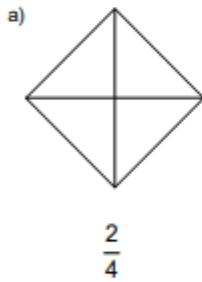
Objetivo :. Identificar, escribir y representar fracciones propias, impropias y números mixtos
 RETROALIMENTACION

REVISION DE TAREAS EN CONJUNTO

04. Completa el cuadro:

	Se lee:
$\frac{1}{2}$	
$\frac{3}{4}$	
$\frac{5}{6}$	
$\frac{7}{9}$	
$\frac{9}{10}$	
$\frac{5}{3}$	

05. Pinto las partes que indican las fracciones:



06. Escribe la fracción correspondiente a la parte sombreada:

