




Guía MATEMÁTICA
REFUERZO 1
Figuras 2D

Nombre:	Curso:	Fecha:
----------------	---------------	---------------

Describir, comparar y construir figuras 2D (triángulos, cuadrados, rectángulos y círculos) con material concreto. **(OA15)**

- ✓ Participa de la clase online día martes (25de agosto) por su profesora. Si no puedes a la hora programada, busca el video de la clase que queda grabado en el grupo de Facebook.
- ✓ La clase de hoy se realiza segun los resultados de un cuestionario realizado a los estudiantes, donde ellos plantean que necesitan refuerzo de las figuras geometricas.
- ✓ Resolvemos en conjunto esta guia, luego la pegan en su cuaderno de matemáticas.

1. Une cada figura con su nombre.



Rectángulo

Triángulo

Círculo

Cuadrado


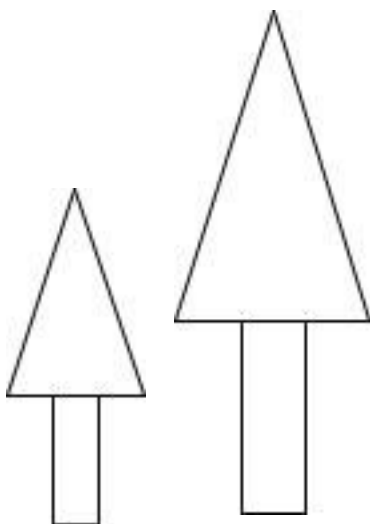

2. Pinta cada figura 2D del dibujo.

Rojo los cuadrados

Café los rectángulos


Amarillo los círculos

Verde los triángulos





3. Encierra la o las figuras que tienen la característica dada:

Característica	Figura 2D
Su contorno es una línea curva.	   
Tiene 4 lados.	   
Tiene 4 lados de igual medida.	   
Tiene 3 lados.	   

4. Responde.

- ¿En qué se parecen un triángulo y un cuadrado?

- ¿En qué se diferencian un cuadrado y un círculo?





5. Describe cada figura y comenta tus respuestas con un compañero o compañera.

Cuadrado: _____

Rectángulo: _____


6. Escribe el nombre de cada figura geométrica

triángulo cuadrado rectángulo círculo


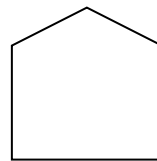
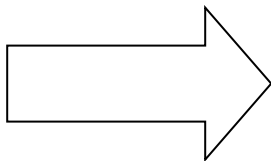
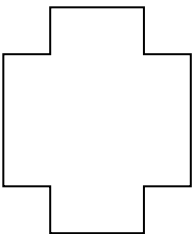
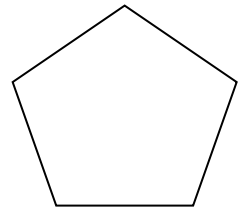

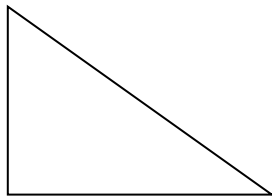
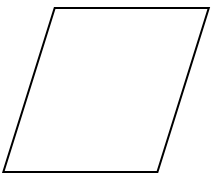

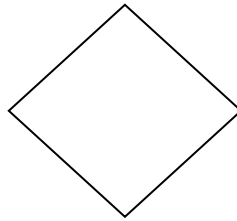

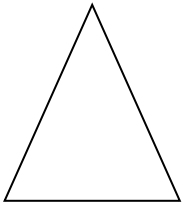
 <input data-bbox="324 2136 714 2204" type="text"/>	 <input data-bbox="958 2136 1347 2204" type="text"/>
 <input data-bbox="324 2392 714 2459" type="text"/>	 <input data-bbox="941 2392 1331 2459" type="text"/>



1. Completa las tablas.

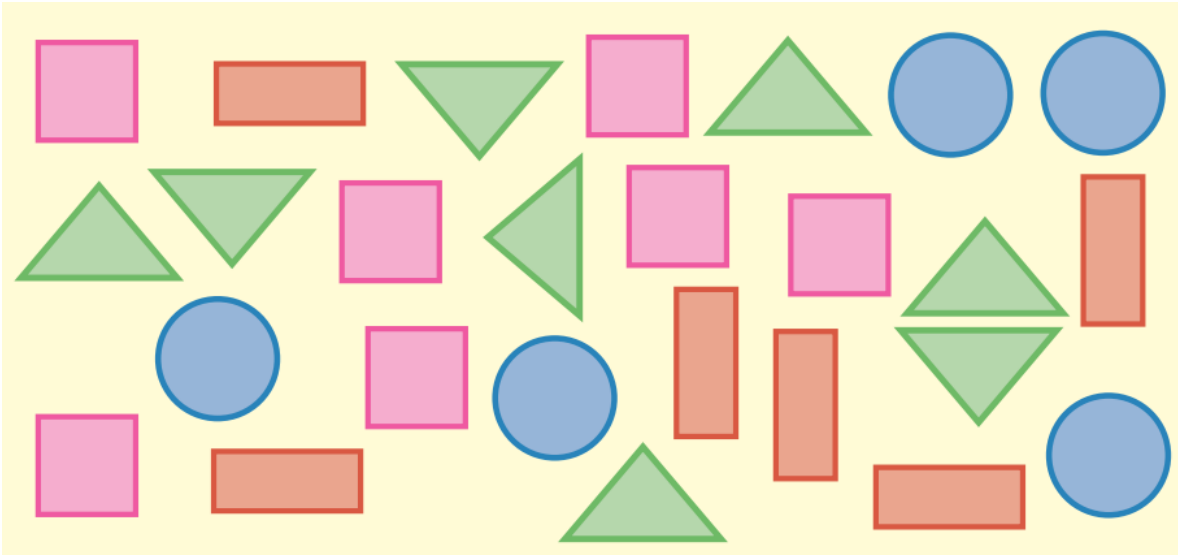
Figura 2D	Cantidad de lados	Cantidad de vértices
		
		
		

2.- Repasa los lados de cada figura con rojo y pinta de azul cada vértice.





3. El juego de figuras



¿Cuántos hay? Completa la tabla.


			

Ahora completa con más o menos según corresponda

a) Hay _____  que  .

b) Hay _____  que  .

c) Hay _____  que  .

d) Hay _____  que  .