



Cuadernillo

Matemáticas

1º A



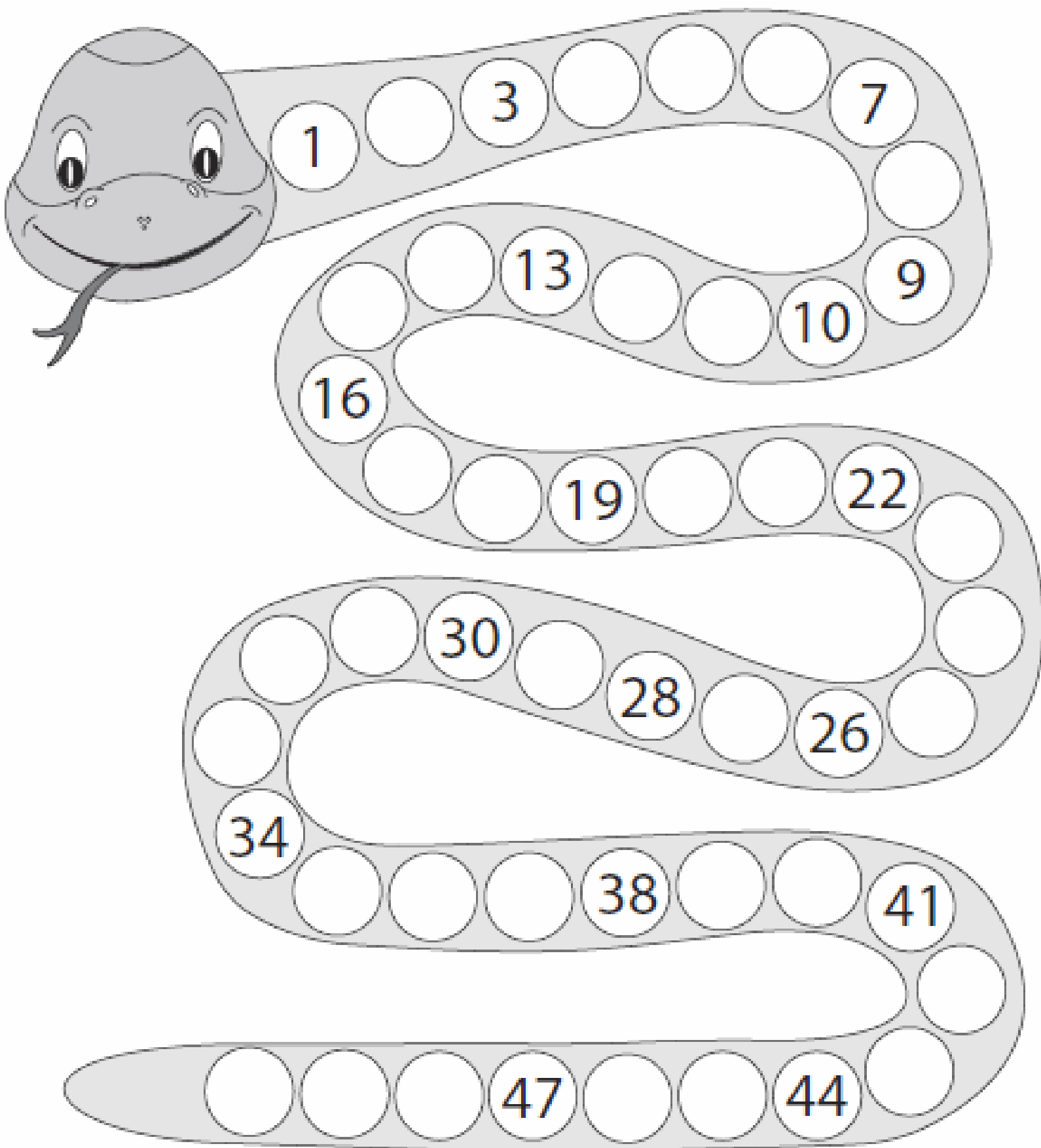
Nombre:

Fecha de entrega: 07/08/2020

Fecha de devolución: 14/08/2020




Vamos a trabajar con los números del 1 al 50, por eso te invito, a completar la serpiente numérica que te ayudará a resolver las siguientes actividades.





Con tu lápiz grafito completa el dibujo siguiendo los números en orden desde el 1 hasta el 50.





Cuenta los elementos de cada conjunto y escribe el número que corresponda.

Cada vez que cuentes una fruta hazle una rayita para que no te confundas, ejemplo:

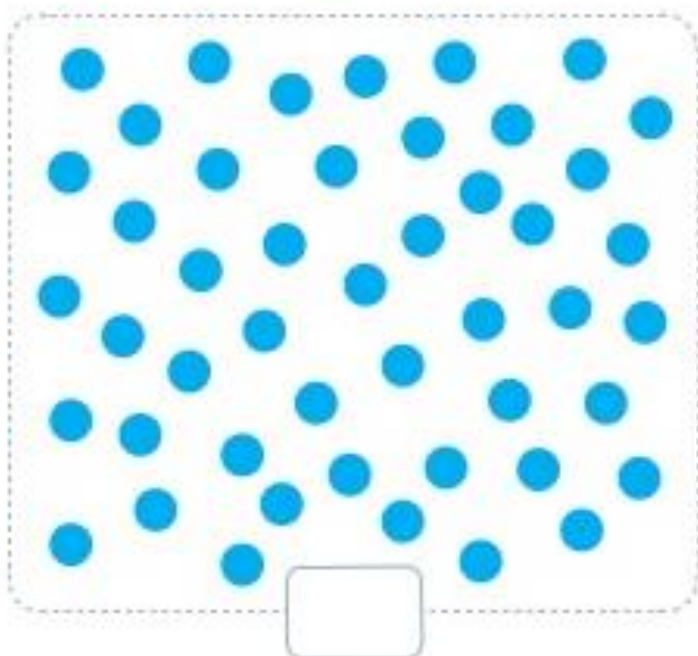
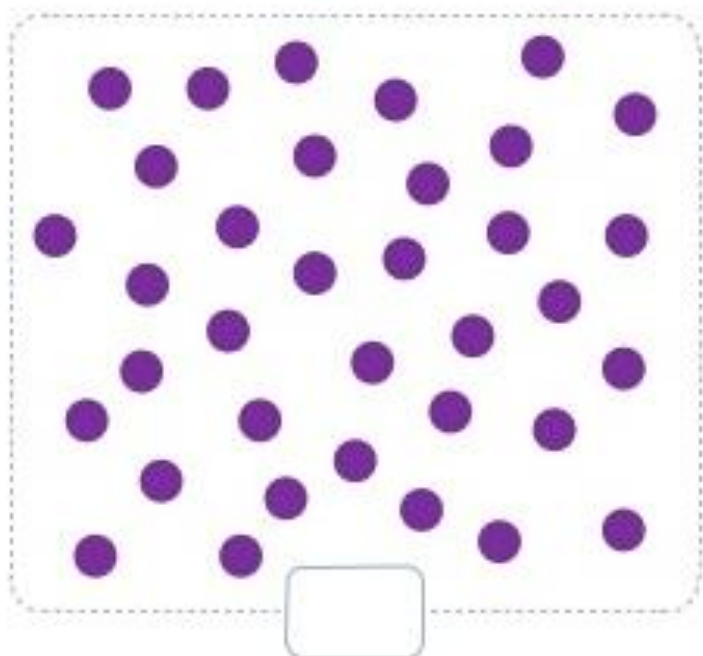

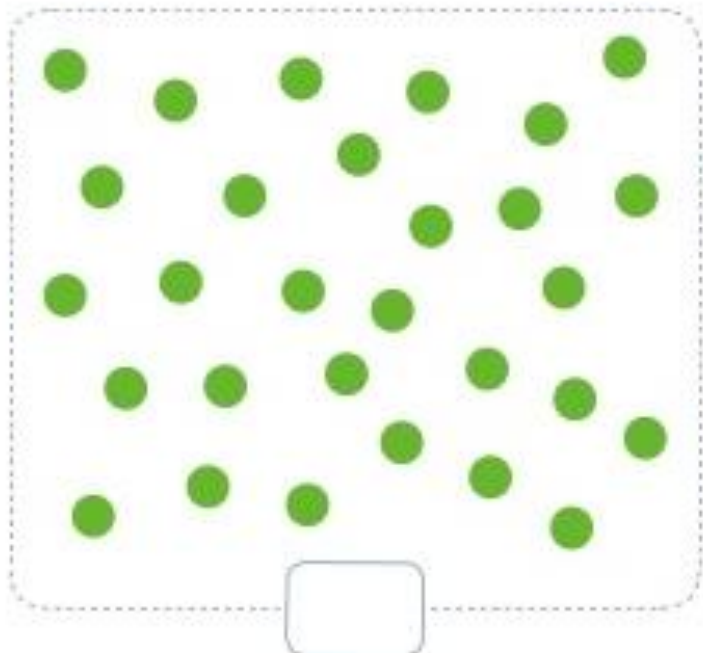


Four rows of counting exercises, each with a group of fruit and an empty box for the answer.

- Row 1: A group of 15 red apples. To the right is an empty box.
- Row 2: A group of 18 blue apples. To the right is an empty box.
- Row 3: A group of 14 green apples. To the right is an empty box.
- Row 4: A group of 18 red apples. To the right is an empty box.



Puedes tachar los elementos al contarlos.

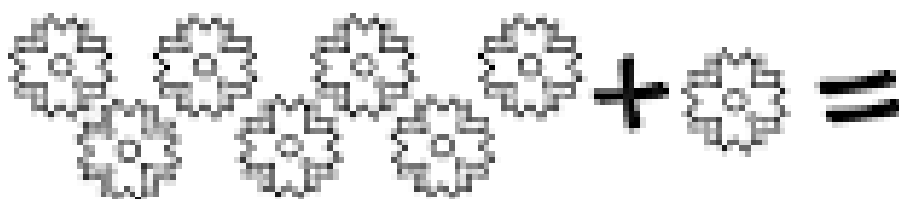

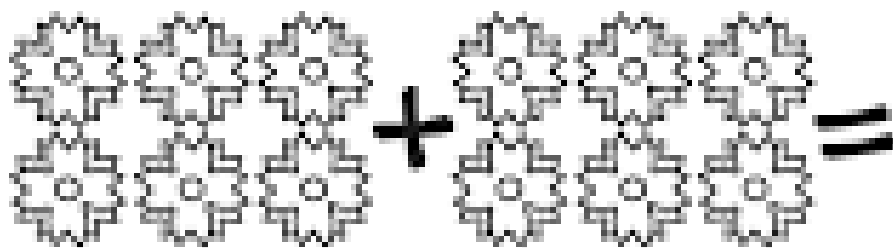
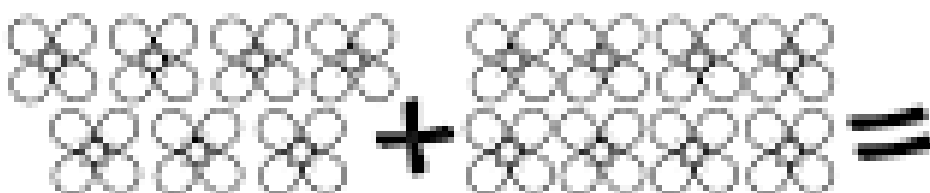
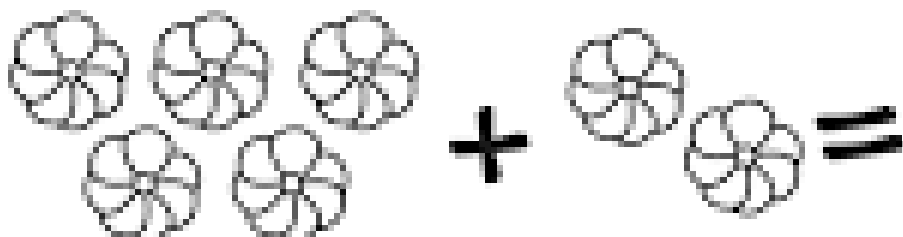




Resuelve las siguientes sumas.

Para obtener el resultado debes contar los elementos y escribir el resultado en números.

Recuerda al contar puedes tachar los elementos para no confundirte.





Ahora vamos a sumar como lo hemos practicado este tiempo.
Recuerda que debajo de cada suma puedes hacer pelotitas, rayitas o lo que prefieras para ayudarte a sumar.

$$1 + 4 = \square$$

$$2 + 3 = \square$$

$$3 + 1 = \square$$

$$1 + 5 = \square$$

$$5 + 3 = \square$$

$$3 + 4 = \square$$

¡Ahora seguiremos sumando!

Recuerda que puedes hacer dibujitos para ayudarte en el resultado.

$$\begin{array}{r} 1 \\ + 1 \\ \hline \end{array}$$

$$\begin{array}{r} 4 \\ + 2 \\ \hline \end{array}$$

$$\begin{array}{r} 7 \\ + 2 \\ \hline \end{array}$$

$$\begin{array}{r} 45 \\ + 20 \\ \hline \end{array}$$




$$\begin{array}{r} 84 \\ + 12 \\ \hline \end{array}$$

$$\begin{array}{r} 12 \\ + 15 \\ \hline \end{array}$$



Resuelve las siguientes restas.

Recuerda al contar y quitar puedes tachar los elementos para no confundirte.





Ahora vamos a restar como lo hemos practicado este tiempo.
Recuerda que debajo de cada resta puedes hacer pelotitas, rayitas o lo que prefieras para ayudarte a restar.

$$4 - 1 =$$

$$7 - 2 =$$

$$3 - 2 =$$

$$6 - 3 =$$

$$9 - 7 =$$

$$3 - 1 =$$

¡Ahora seguiremos restando!

Recuerda que puedes hacer dibujitos para ayudarte en el resultado.

$$\begin{array}{r} 4 \\ - 2 \\ \hline \end{array}$$

$$\begin{array}{r} 6 \\ - 3 \\ \hline \end{array}$$

$$\begin{array}{r} 9 \\ - 4 \\ \hline \end{array}$$

$$\begin{array}{r} 24 \\ - 12 \\ \hline \end{array}$$

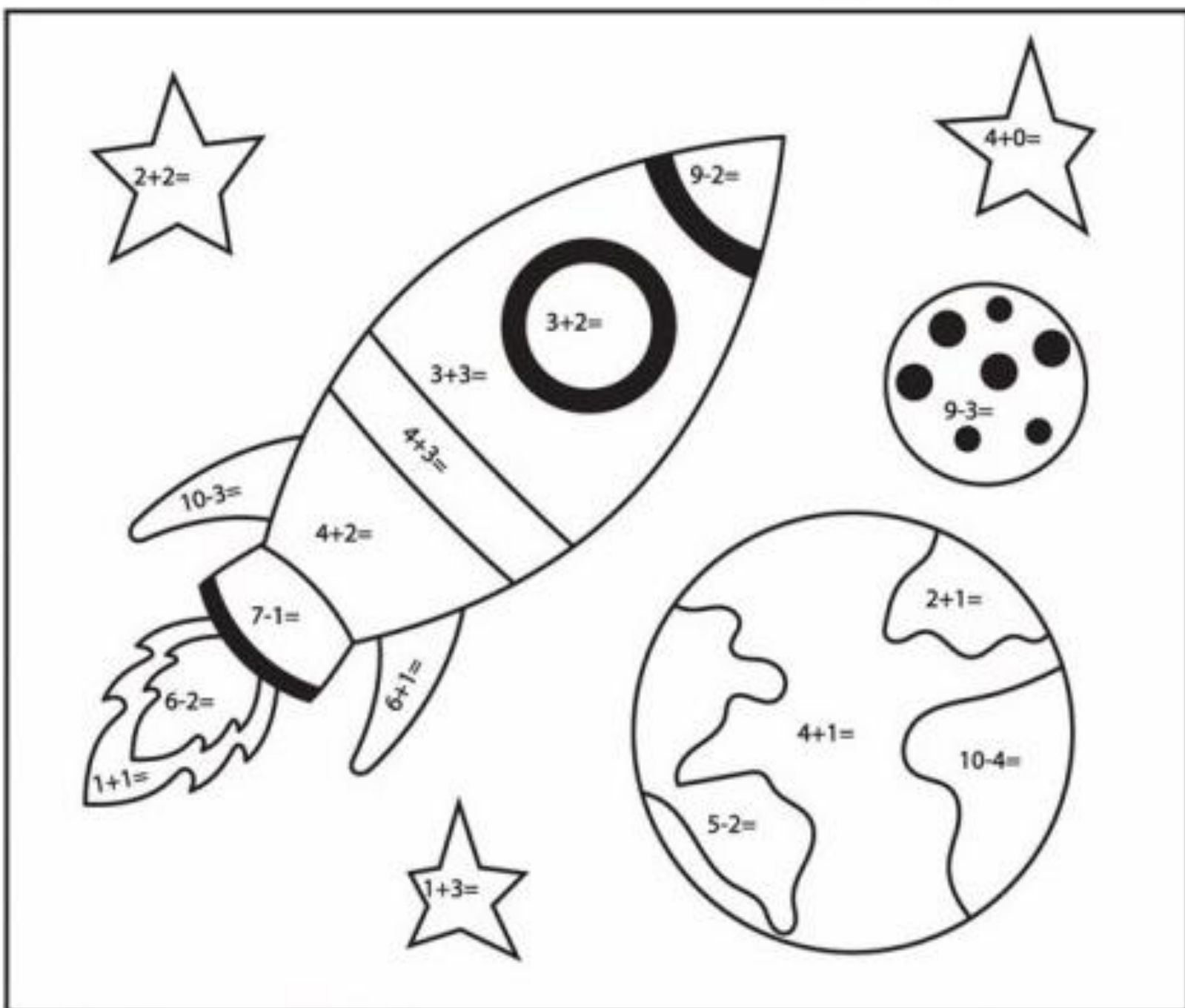
$$\begin{array}{r} 39 \\ - 17 \\ \hline \end{array}$$

$$\begin{array}{r} 48 \\ - 17 \\ \hline \end{array}$$



Desafío: Pinta el dibujo según el resultado de las sumas y restas que podemos ver en él.

- Si el resultado es 2, debes pintar naranja
- Si el resultado es 3, debes pintar verde
- Si el resultado es 4, debes pintar amarillo
- Si el resultado es 5, debes pintar azul
- Si el resultado es 6, debes pintar gris
- Si el resultado es 7, debes pintar rojo



¡Ánimo, tu puedes hacer todo lo que te propongas!