

Resuelva los siguientes problemas matemáticos.

Nombre: _____

Fecha: _____

1 Hay 5 peras y me como 2. ¿Cuántas quedan?



$$\boxed{5} - \boxed{2} = \boxed{}$$

2 Hay 6 magdalenas y me como 2. ¿Cuántas quedan?



$$\boxed{} - \boxed{} = \boxed{}$$

3 Tenía 10 galletas. Si me como 3, ¿cuántas me quedan?



$$\boxed{} - \boxed{} = \boxed{}$$

4 Tengo 7 mariquitas y encuentro 3. ¿Cuántas tengo en total?



$$\boxed{} + \boxed{} = \boxed{}$$

5 Tengo 5 flores y encuentro 3 más. ¿Cuántas tengo en total?



$$\boxed{} + \boxed{} = \boxed{}$$

Resuelva los siguientes problemas matemáticos.

Nombre: _____ Fecha: _____

1 Hay 3 arañas y llegan 2. ¿Cuántas hay en total?



 $3 + \square = \square$

2 Hay 5 sombreros y se rompen 3. ¿Cuántos quedan?



 $\square - \square = \square$

3 Tenía 5 calabazas. Si traen 4, ¿cuántas hay en total?



 $\square + \square = \square$

4 Tengo 4 murciélagos y se va 1. ¿Cuántos quedan?



 $\square - \square = \square$

5 Veo 4 fantasmas y vienen 2 más. ¿Cuántos hay en total?



 $\square + \square = \square$

Resuelva los siguientes problemas matemáticos.

Nombre: _____ Fecha: _____

A Hay 6 manzanas y me como 2. ¿Cuántas quedan?




$$\boxed{6} - \boxed{2} = \boxed{}$$

B Hay 5 huevos y se rompe 1. ¿Cuántos quedan?



$$\boxed{} - \boxed{} = \boxed{}$$

C Tenía 10 magdalenas. Si me como 3, ¿cuántas me quedan?



$$\boxed{} - \boxed{} = \boxed{}$$

D Tengo 9 globos y explotan 3. ¿Cuántos quedan?



$$\boxed{} - \boxed{} = \boxed{}$$



E Tengo 5 globos y me regalan 2 más. ¿Cuántos tengo en total?





$$\boxed{} + \boxed{} = \boxed{}$$

Resuelva los siguientes problemas matemáticos.



Nombre: _____ Fecha: _____

 $+$  $=$



_____ $+$ _____ $=$

 $+$  $=$



_____ $+$ _____ $=$

 $+$  $=$

_____ $+$ _____ $=$

 $+$  $=$

_____ $+$ _____ $=$

 $+$  $=$

_____ $+$ _____ $=$